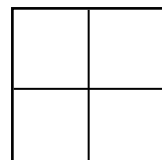


Form & Storlek

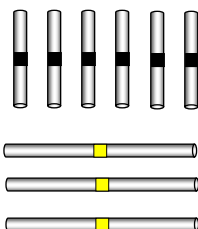
GRÖN

Uppgifter:

1. **Tänk er** att bilden föreställer ett fönster med fyra rutor. Kan ni bygga fönstret med hjälp av pinnarna (Byggmaterial 1)?

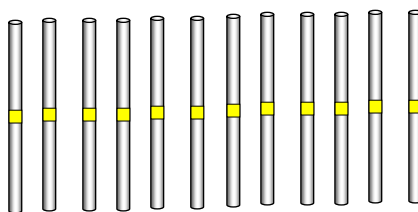


Byggmaterial 1



2. **Kan ni** bygga ett fönster med 4 rutor, vars sidor är dubbelt så stora, med hjälp av dom gula pinnarna (Byggmaterial 2)?

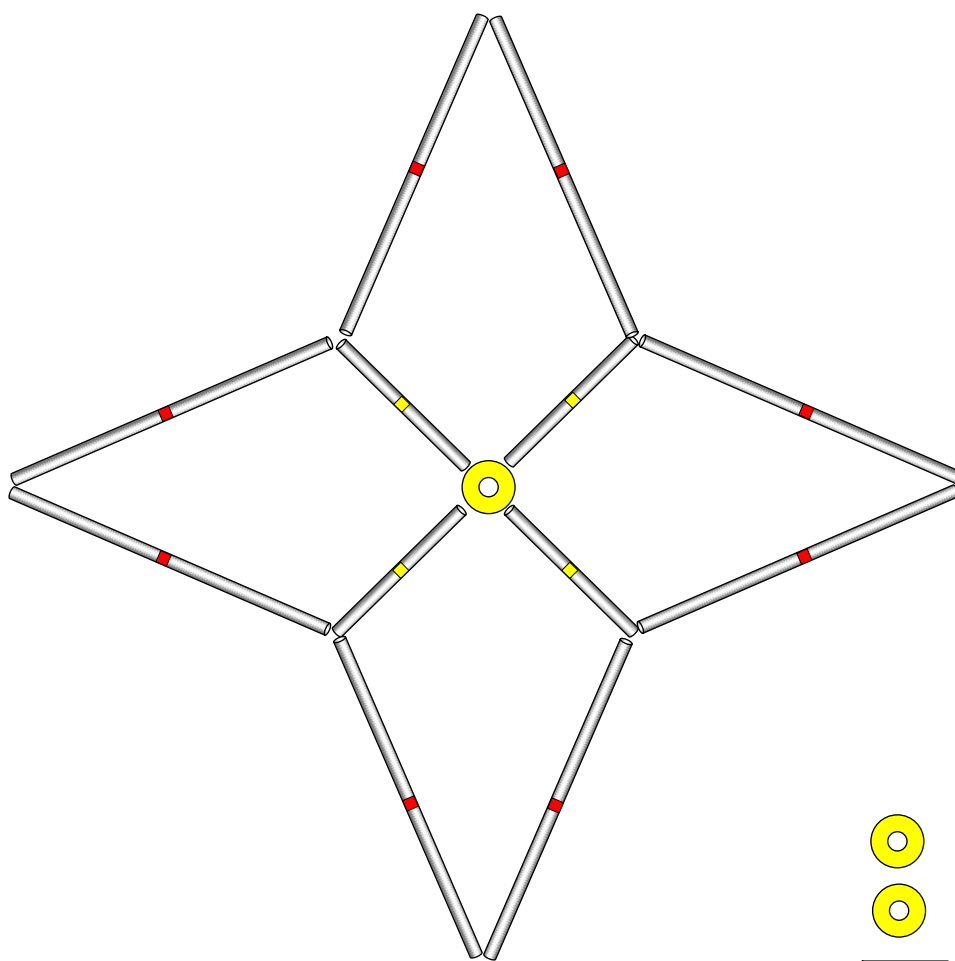
Lägg fram 2




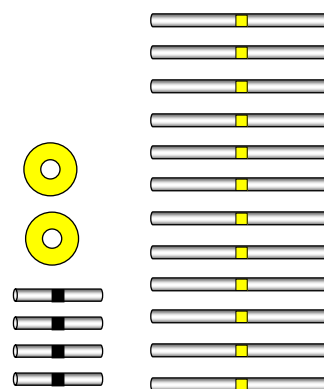
BLÅ

Uppgift 1 – Stjärnan:

1. **Kan ni** bygga stjärnan med hjälp av pinnarna?
2. **Kan ni** bygga en stjärna med exakt samma FORM, men vars sidor är hälften så stora, med hjälp av dom pinnar som är kvar? Tänk er att ni ska FÖRMINSKA stjärnan.

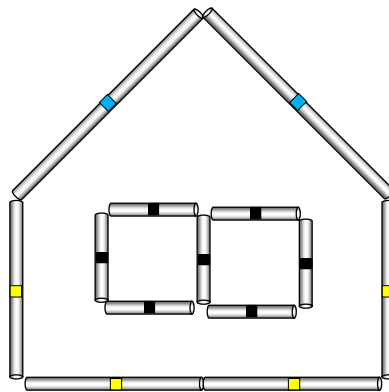


Byggmateriel



Uppgift 2 – Huset:

1. **Kan ni** bygga huset med hjälp av pinnarna?
2. **Kan ni** bygga ett hus med exakt samma FORM, men vars sidor är dubbelt så stora, med dom pinnar som är kvar? Tänk er att ni ska FÖRSTORA stjärnan.



Byggmaterial

